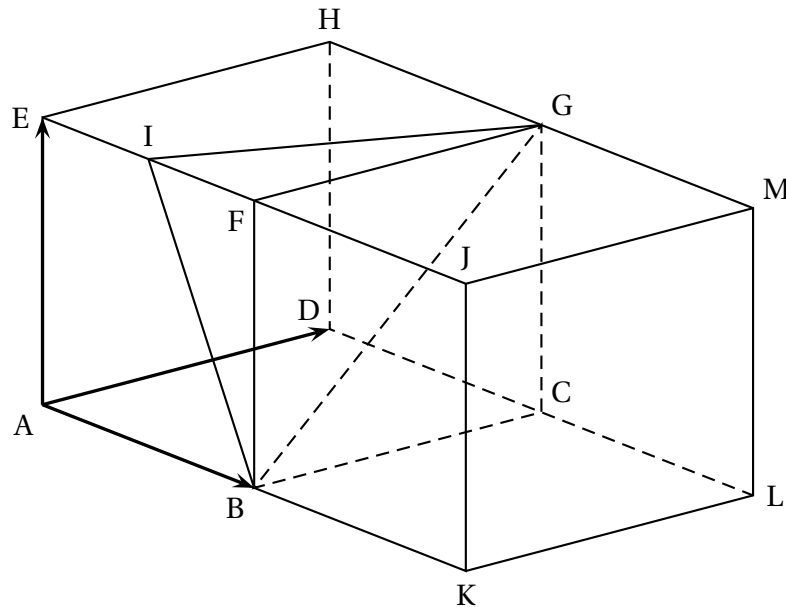


Exercice 1 – Espace

Asie 2023

Partie A

On considère deux cubes ABCDEFGH et BKLCFJMG positionnés comme sur la figure suivante :



Le point I est le milieu de [EF].

Dans toute la suite de l'exercice, on se place dans le repère orthonormé $(A; \overrightarrow{AB}; \overrightarrow{AD}; \overrightarrow{AE})$. Ainsi, par exemple, les points F, G et J ont pour coordonnées

$$F(1; 0; 1), \quad G(1; 1; 1) \quad \text{et} \quad J(2; 0; 1).$$

1. Montrer que le volume du tétraèdre FIGB est égal à $\frac{1}{12}$ d'unité de volume.

On rappelle que le volume V d'un tétraèdre est donné par la formule :

$$V = \frac{1}{3} \times \text{aire d'une base} \times \text{hauteur correspondante}.$$

2. Déterminer les coordonnées du point I.
3. Montrer que le vecteur \overrightarrow{DJ} un vecteur normal au plan (BIG).
4. Montrer qu'une équation cartésienne du plan (BIG) est $2x - y + z - 2 = 0$.

5. Déterminer une représentation paramétrique de la droite d , orthogonale à (BIG) et passant par F.
6. (a) La droite d coupe le plan (BIG) au point L'.
Montrer que les coordonnées du point L' sont $\left(\frac{2}{3}; \frac{1}{6}; \frac{5}{6}\right)$.
(b) Calculer la longueur FL'.
(c) Dédire des questions précédentes l'aire du triangle IGB.

Exercice 2 – Suites

Réunion 2023

On considère la suite (u_n) définie par $u_0 = 8$ et, pour tout entier naturel n ,

$$u_{n+1} = \frac{6u_n + 2}{u_n + 5}.$$

1. Calculer u_1 .
2. Soit f la fonction définie sur l'intervalle $[0; +\infty[$ par :

$$f(x) = \frac{6x + 2}{x + 5}.$$

Ainsi, pour tout entier naturel n , on a : $u_{n+1} = f(u_n)$.

- (a) Démontrer que la fonction f est strictement croissante sur l'intervalle $[0; +\infty[$.
En déduire que pour tout réel $x > 2$, on a $f(x) > 2$.
- (b) Démontrer par récurrence que, pour tout entier naturel n , on a $u_n > 2$.
3. On admet que, pour tout entier naturel n , on a :

$$u_{n+1} - u_n = \frac{(2 - u_n)(u_n + 1)}{u_n + 5}.$$

- (a) Démontrer que la suite (u_n) est décroissante.
- (b) En déduire que la suite (u_n) est convergente.
4. On définit la suite (v_n) pour tout entier naturel par :

$$v_n = \frac{u_n - 2}{u_n + 1}.$$

- (a) Calculer v_0 .
- (b) Démontrer que (v_n) est une suite géométrique de raison $\frac{4}{7}$.
- (c) Déterminer, en justifiant, la limite de (v_n) .
En déduire la limite de (u_n) .

5. On considère la fonction Python seuil ci-contre, où A est un nombre réel strictement plus grand que 2.

Donner, sans justification, la valeur renvoyée par la commande seuil(2.001) puis interpréter cette valeur dans le contexte de l'exercice.

```
def seuil(A):
    n = 0
    u = 8
    while u > A:
        u = (6*u + 2)/(u + 5)
        n = n + 1
    return n
```

La paratuberculose est une maladie digestive infectieuse qui touche les vaches. Elle est due à la présence d'une bactérie dans l'intestin de la vache.

On réalise une étude dans une région dont 0,4 % de la population de vaches est infectée.

Il existe un test qui met en évidence la réaction immunitaire de l'organisme infecté par la bactérie.

Le résultat de ce test peut être soit « positif », soit « négatif ».

On choisit une vache au hasard dans la région.

Compte tenu des caractéristiques du test, on sait que :

- Si la vache est atteinte par l'infection, la probabilité que son test soit positif est de 0,992 ;
- Si la vache n'est pas atteinte par l'infection, la probabilité que son test soit négatif est de 0,984 .

On désigne par :

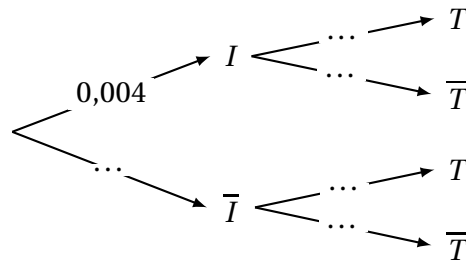
- I l'évènement « la vache est atteinte par l'infection » ;
- T l'évènement « la vache présente un test positif ».

On note \bar{I} l'évènement contraire de I et \bar{T} l'évènement contraire de T .

Les parties A et B sont indépendantes.

Partie A

1. Reproduire et compléter l'arbre pondéré ci-dessous modélisant la situation.



2. (a) Calculer la probabilité que la vache ne soit pas atteinte par l'infection et que son test soit négatif. On donnera le résultat à 10^{-3} près.
- (b) Montrer que la probabilité, à 10^{-3} près, que la vache présente un test positif est environ égale à 0,020.
- (c) La « valeur prédictive positive du test » est la probabilité que la vache soit atteinte par l'infection sachant que son test est positif. Calculer la valeur prédictive positive de ce test. On donnera le résultat à 10^{-3} près.
- (d) Le test donne une information erronée sur l'état de santé de la vache lorsque la vache n'est pas infectée et présente un résultat positif au test ou lorsque la vache est infectée et présente un résultat négatif au test.
Calculer la probabilité que ce test donne une information erronée sur l'état de santé de la vache. On donnera un résultat à 10^{-3} près.

Partie B

3. Lorsqu'on choisit au hasard dans la région un échantillon de 100 vaches, on assimile ce choix à un tirage avec remise.

On rappelle que, pour une vache choisie au hasard dans la région, la probabilité que le test soit positif est égale à 0,02.

On note X la variable aléatoire qui à un échantillon de 100 vaches de la région choisies au hasard associe le nombre de vaches présentant un test positif dans cet échantillon.

- (a) Quelle est la loi de probabilité suivie par la variable aléatoire X ? Justifier la réponse et préciser les paramètres de cette loi.
 - (b) Calculer la probabilité que dans un échantillon de 100 vaches, il y ait exactement 3 vaches présentant un test positif. On donnera un résultat à 10^{-3} près.
 - (c) Calculer la probabilité que dans un échantillon de 100 vaches, il y ait au plus 3 vaches présentant un test positif. On donnera un résultat à 10^{-3} près.
4. On choisit à présent un échantillon de n vaches dans cette région, n étant un entier naturel non nul. On admet que l'on peut assimiler ce choix à un tirage avec remise.
- Déterminer la valeur minimale de n pour que la probabilité qu'il y ait, dans l'échantillon, au moins une vache testée positive, soit supérieure ou égale à 0,99.

Exercice 4 – Fonctions ln

Métropole septembre 2023

On considère la fonction f définie sur l'intervalle $]0 ; +\infty[$ par

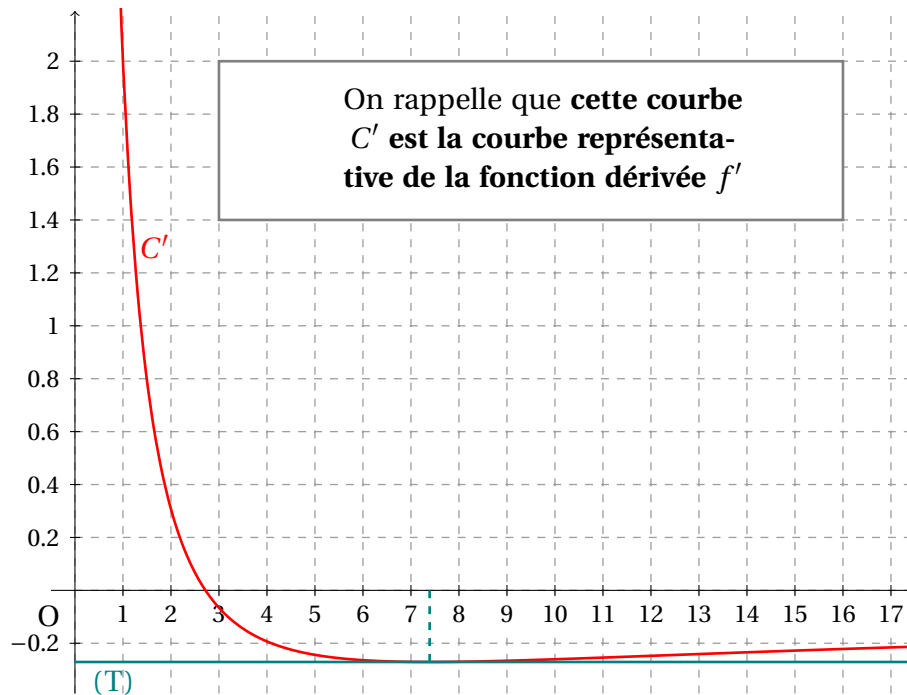
$$f(x) = (2 - \ln x) \times \ln x,$$

où \ln désigne la fonction logarithme népérien.

On admet que la fonction f est deux fois dérivable sur $]0 ; +\infty[$.

On note C la courbe représentative de la fonction f dans un repère orthogonal et C' la courbe représentative de la fonction f' , fonction dérivée de la fonction f .

La **courbe C'** est donnée ci-dessous ainsi que son unique tangente horizontale (T).



1. Par lecture graphique, avec la précision que permet le tracé ci-dessus, donner :

- (a) le coefficient directeur de la tangente à C au point d'abscisse 1.
- (b) le plus grand intervalle sur lequel la fonction f est convexe.

2. (a) Calculer la limite de la fonction f en $+\infty$.

(b) Calculer $\lim_{x \rightarrow 0} f(x)$. Interpréter graphiquement ce résultat.

3. Montrer que la courbe C coupe l'axe des abscisses en deux points exactement dont on précisera les coordonnées.

4. (a) Montrer que pour tout réel x appartenant à $]0; +\infty[$, $f'(x) = \frac{2(1 - \ln x)}{x}$.

(b) En déduire, en justifiant, le tableau de variations de la fonction f sur $]0; +\infty[$.

5. On note f'' la dérivée seconde de f et on admet que pour tout réel x appartenant à $]0; +\infty[$, $f''(x) = \frac{2(\ln x - 2)}{x^2}$.

Déterminer par le calcul le plus grand intervalle sur lequel la fonction f est convexe et préciser les coordonnées du point d'inflexion de la courbe C .